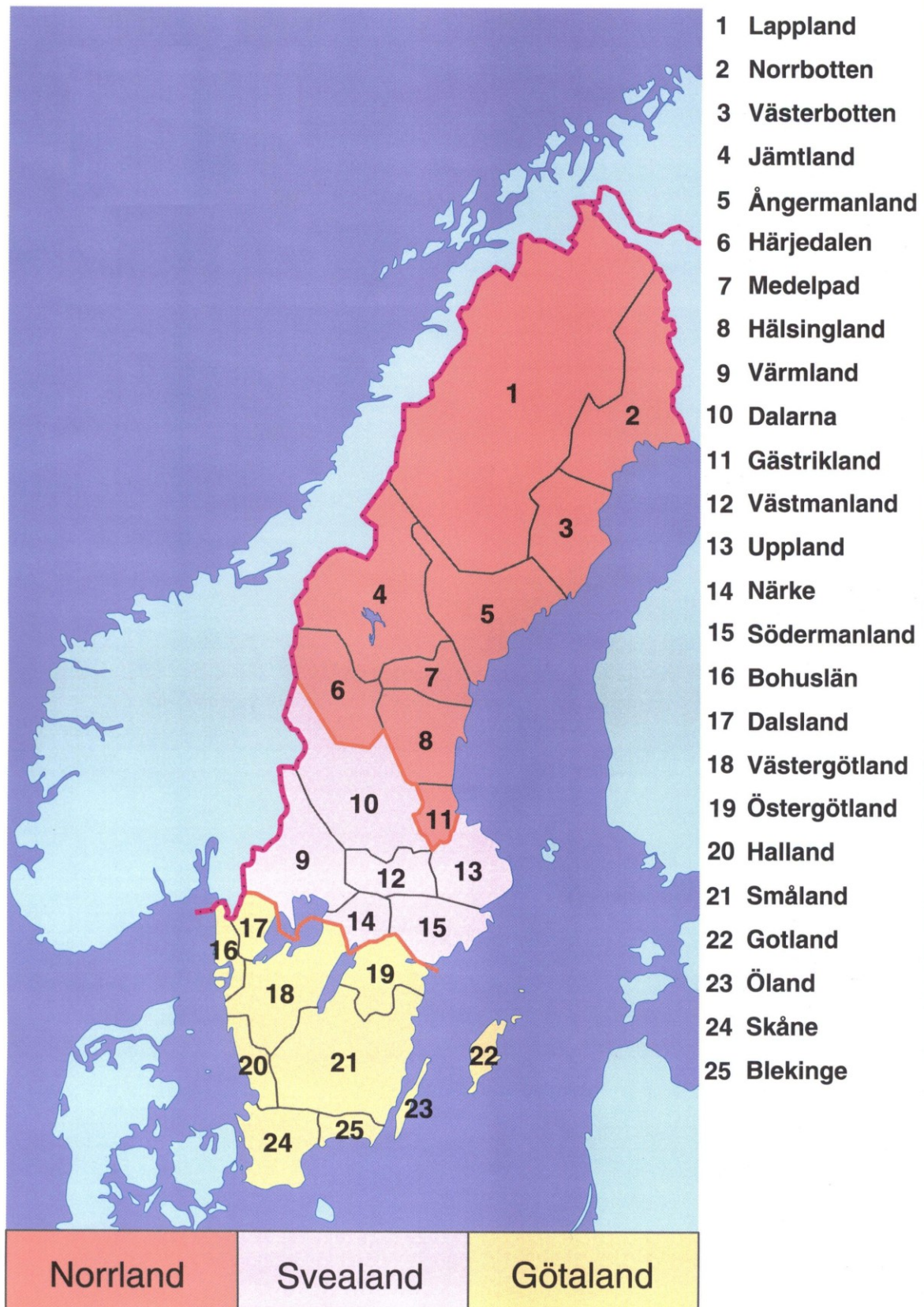


















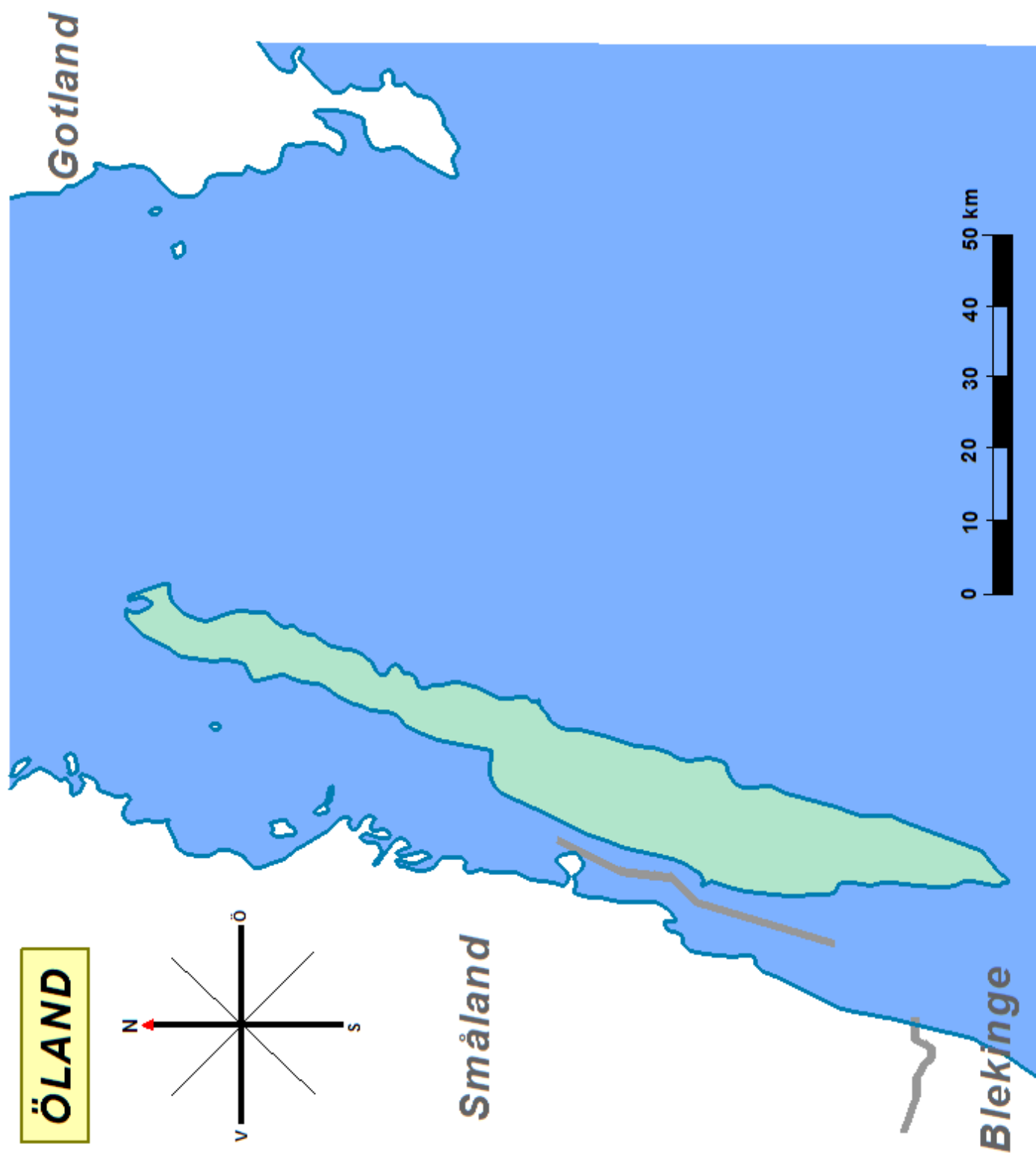
Landskap i sikte!

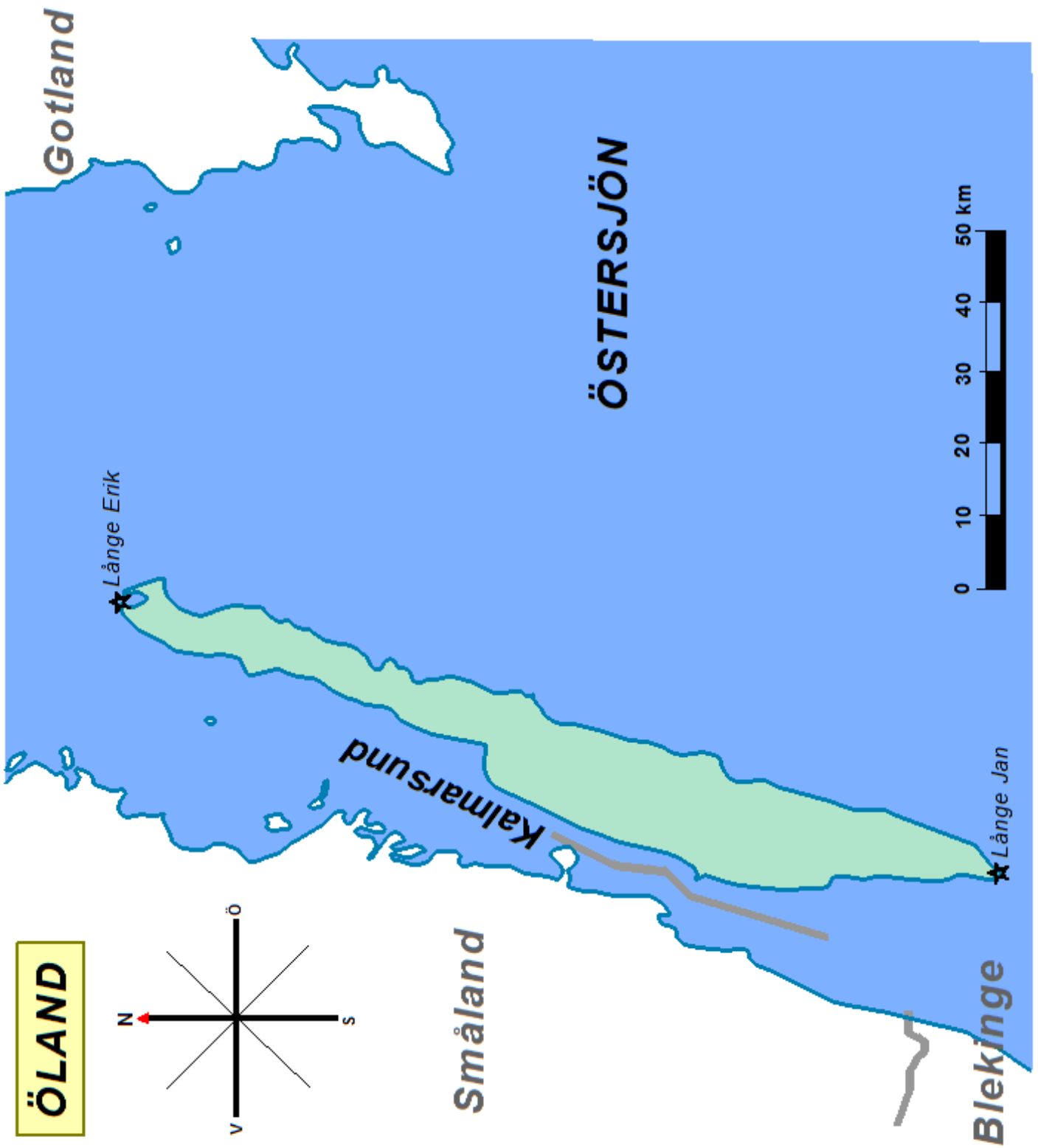
Öland



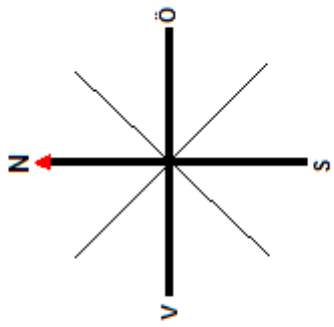
TECKENFÖRKLARING

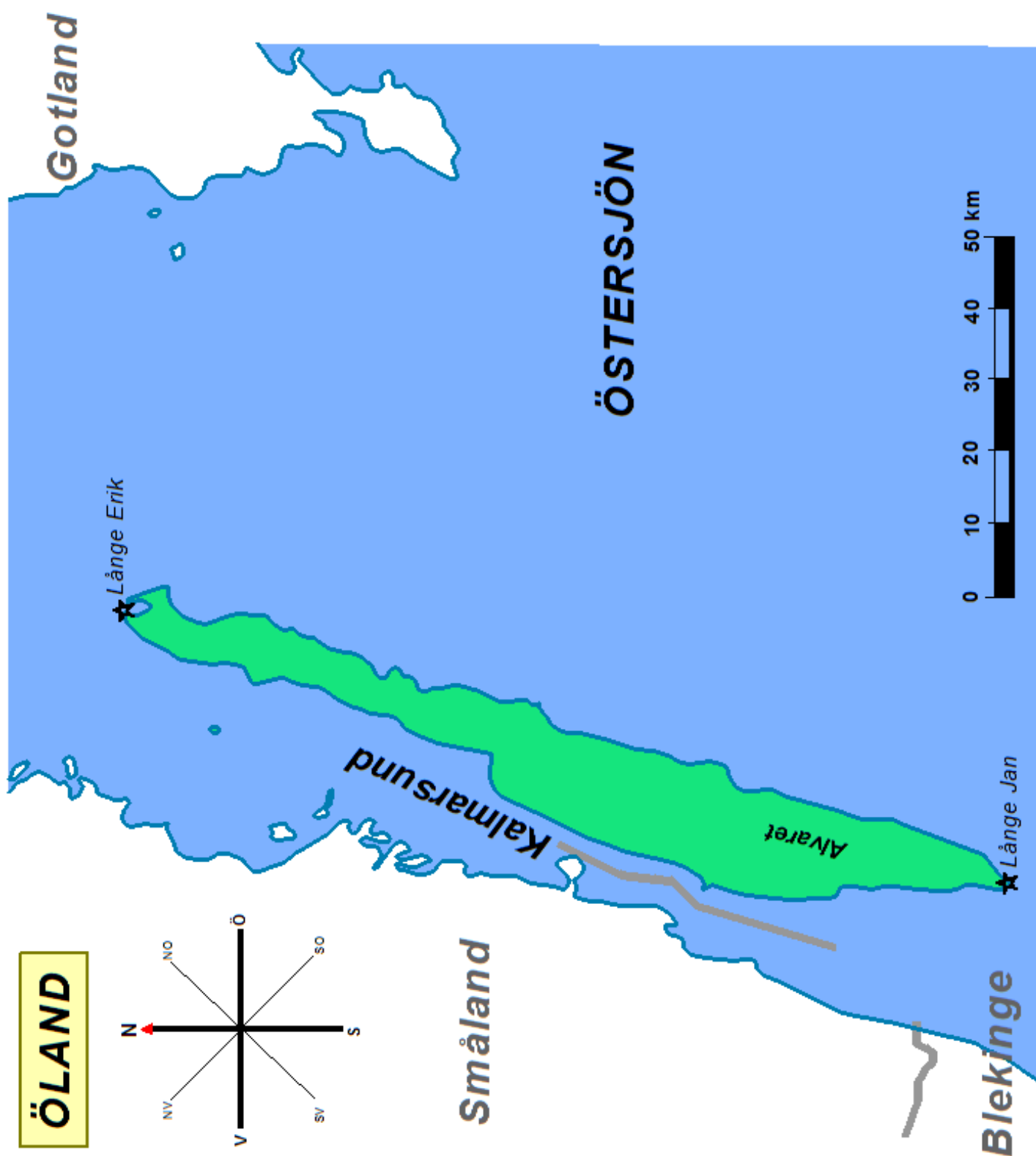
	Riksgräns		Tätort; fler än 100 000 inv.
	Landskapsgräns		Tätort; 50 000-100 000 inv.
 	Hav, Sjö		Tätort; 25 000-50 000 inv.
	Vattendrag, större		Tätort; 10 000-25 000 inv.
	Vattendrag, mindre		Tätort; färre än 10 000 inv.
	Kanal		Fyr
	Båt- eller färjeförbindelse		Kärnkraftverk / Vattenkraftverk
	Järnväg		Över 1500 m ö h
	Motorväg		900-1500 m ö h
	Huvudväg		600-900 m ö h
	Väg, mindre		300-600 m ö h
	Europaväg/Riksväg		100-300 m ö h
	Flygplats		0-100 meter över havet





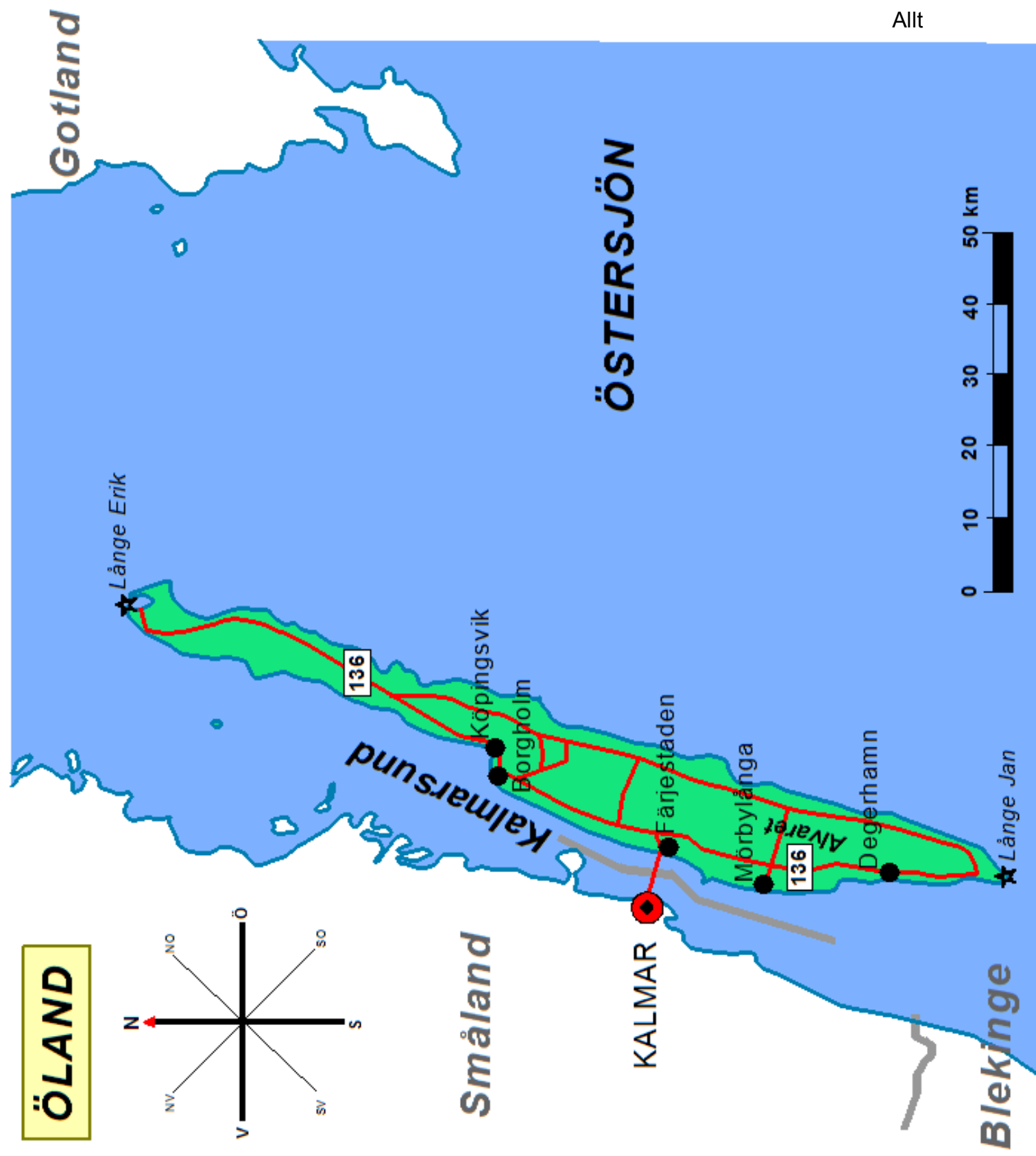
ÖLAND



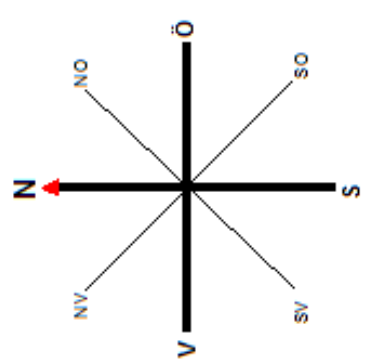


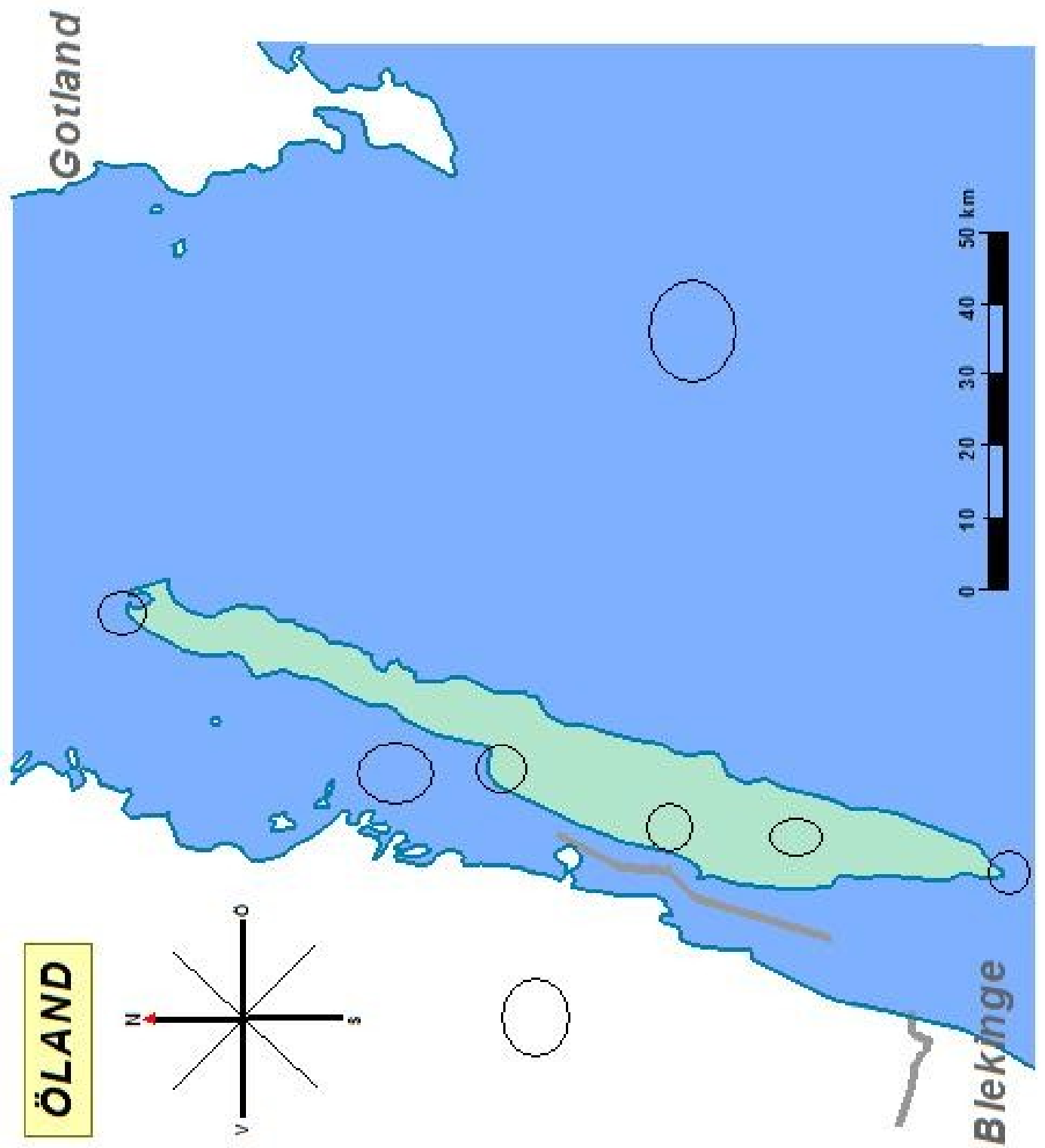


ÖLAND



ÖLAND





Öland

Öland är en ö utanför Sveriges kust.

Kryssa för vilken kust det är.

___ Ostkusten


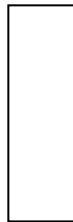

___ Västkusten

___ Sydkusten

Öland är Sveriges minsta landskap.

Titta på formen.

Vilken figur liknar den mest?



Sjöar och vattendrag

Vad heter havet som omger Öland?

Vattnet väster om Öland heter _____-sund.

Ordet sund betyder att vattnet är...

___ djupt ___ grunt ___ långt ___ smalt

Kryssa för rätt ord!

På fastlandet väster om Öland ligger två landskap.

Vad heter de?

_____ och _____

Var ligger Gotland i förhållande till Öland?

Det ligger _____ om Öland.

Långe Jan är en _____

Den ligger på Ölands södra udde.

Var ligger Långe Erik?

Skalan

Studera skalan noga och gör en "mätsticka" för Öland.

Öland är ett långt och mycket smalt landskap.

Hur långt är det från Långe Jan till Långe Erik?

Ca _____ km.

Hur brett är Öland på det bredaste stället?

Ca _____ km.

Hur långt är det från Ölands norra udde rakt österut till Gotland?

Ca _____ km.

Hur långt är det från Ölands södra udde rakt västerut till Blekinge?

Ca _____ km.

Tätorter

De flesta av Ölands tätorter ligger på den _____ sidan av ön.

Vilka av tätorterna är störst?

_____ (_____ inv)

_____ (_____ inv)

Ta reda på hur stor folkmängd de har.

Att fundera över

Hur tror du det kommer sig att de flesta människorna bor på västsidan?

Kommunikationer

Det finns inga stora vägar på Öland.

Den viktigaste vägen på ön är väg _____

Vilken typ av väg är det?

Öland har en broförbindelse med fastlandet.

På Ölandsbron kan man åka mellan Färjestaden på Öland och _____ på fastlandet.

Hur lång är Ölandsbron? Kryssa för rätt alternativ.

1 km 3 km 6 km 12 km

Sök reda på

Det finns ingen flygplats på Öland.

Men ölänningarna har ändå inte långt till en flygplats.

Var ligger närmaste flygplats?

Att fundera över

Öland är ett turistlandskap.

Vilken årstid tror du turisterna kommer?

Vad tror du det är som lockar dem?

Topografi

Titta på Ölands topografi.

Skriv en mening om den.

Sök reda på

Det finns ett område på Öland som kallas Alvaret.

På vilken del av ön ligger det?

Det har en mycket speciell natur.

Vad är typiskt för Alvaret?

Berätta något om marken och växterna.

Välj en bild därifrån.

Blindkarta

Sätt ut siffrorna på blindkartan.

- | | |
|---------------|----------------|
| 1. Långe Erik | 5. Borgholm |
| 2. Kalmarsund | 6. Alvaret |
| 3. Småland | 7. Färjestaden |
| 4. Långe Jan | 8. Östersjön |

Om du hinner

Sök reda på Ölands landskapsblomma och landskapsdjur.

Längs ner på Ölands södra udde ligger Ottenby fågelstation.

Ta reda på vad man gör där och försök hitta några bilder.

Varför har man en fågelstation just där?

Berätta vad du kommit fram till.