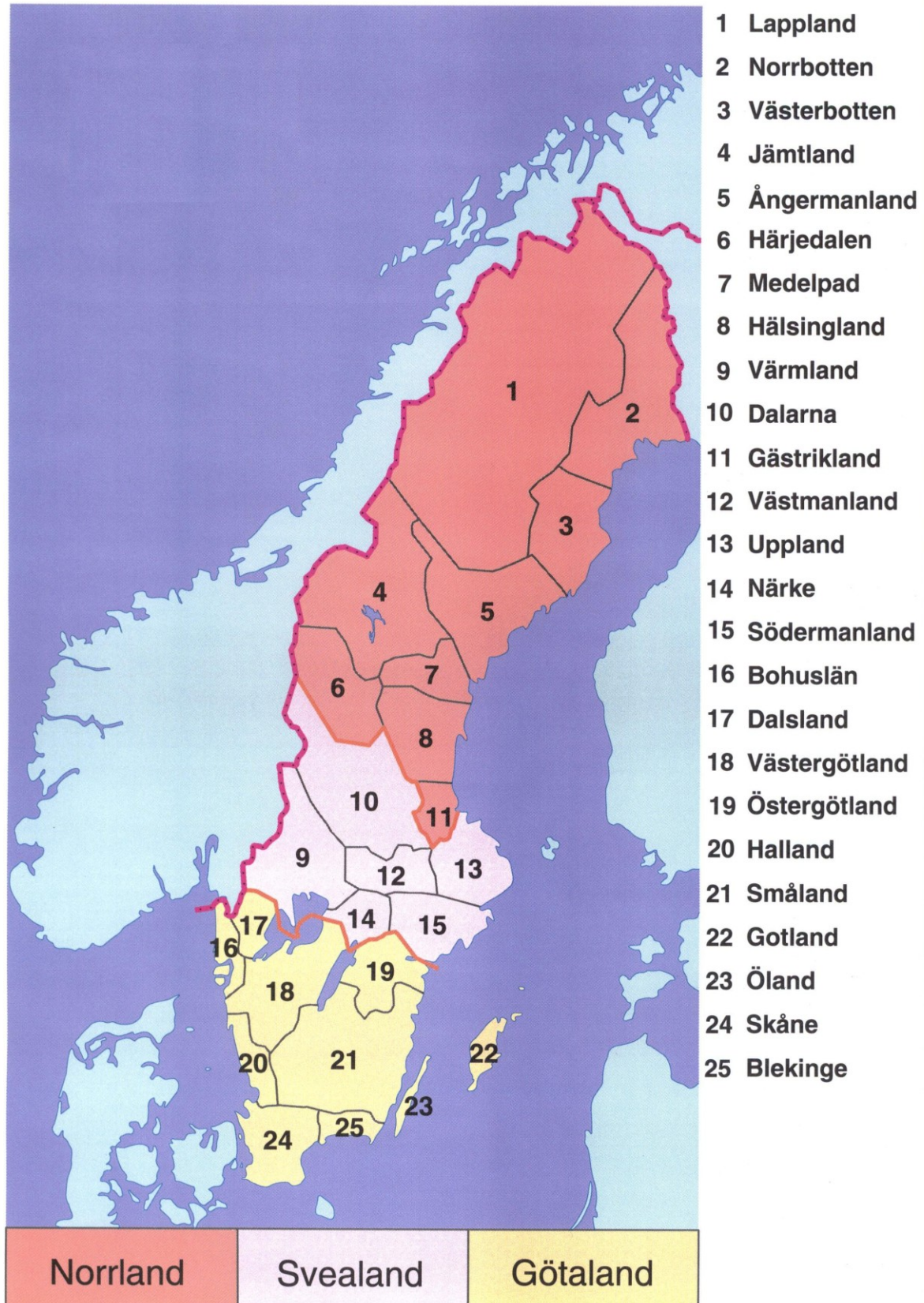



























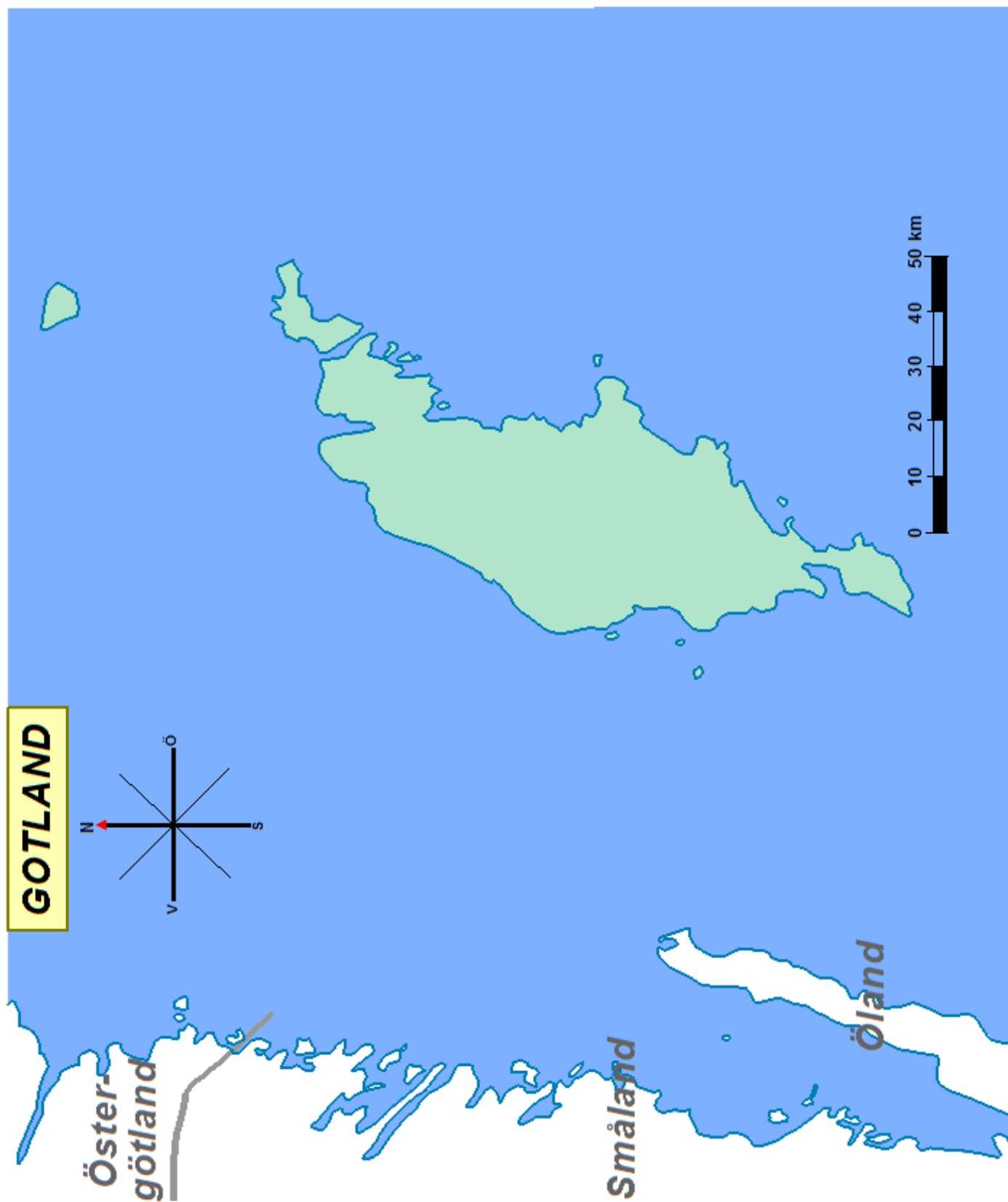
Landskap i sikte!

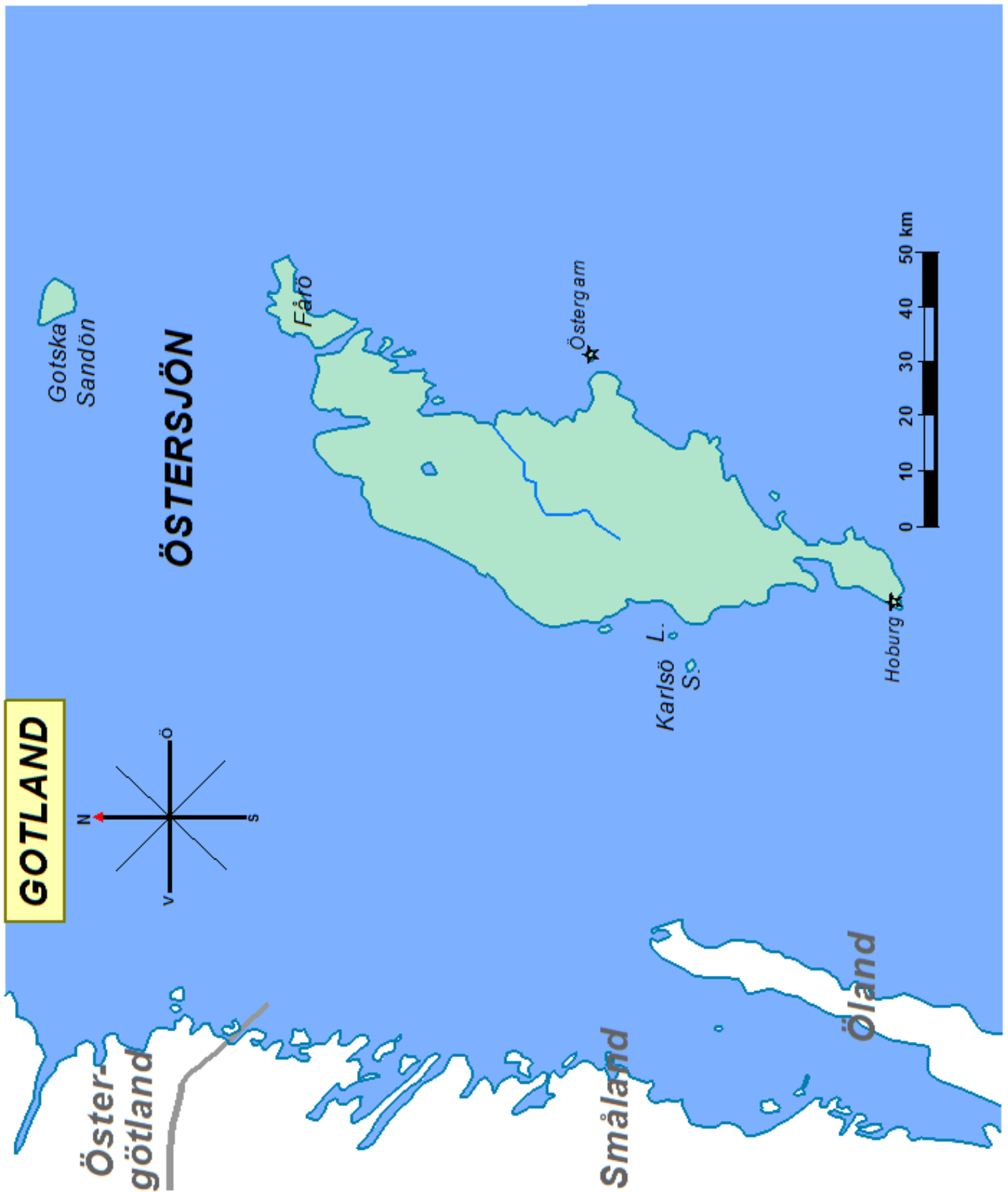
Gotland

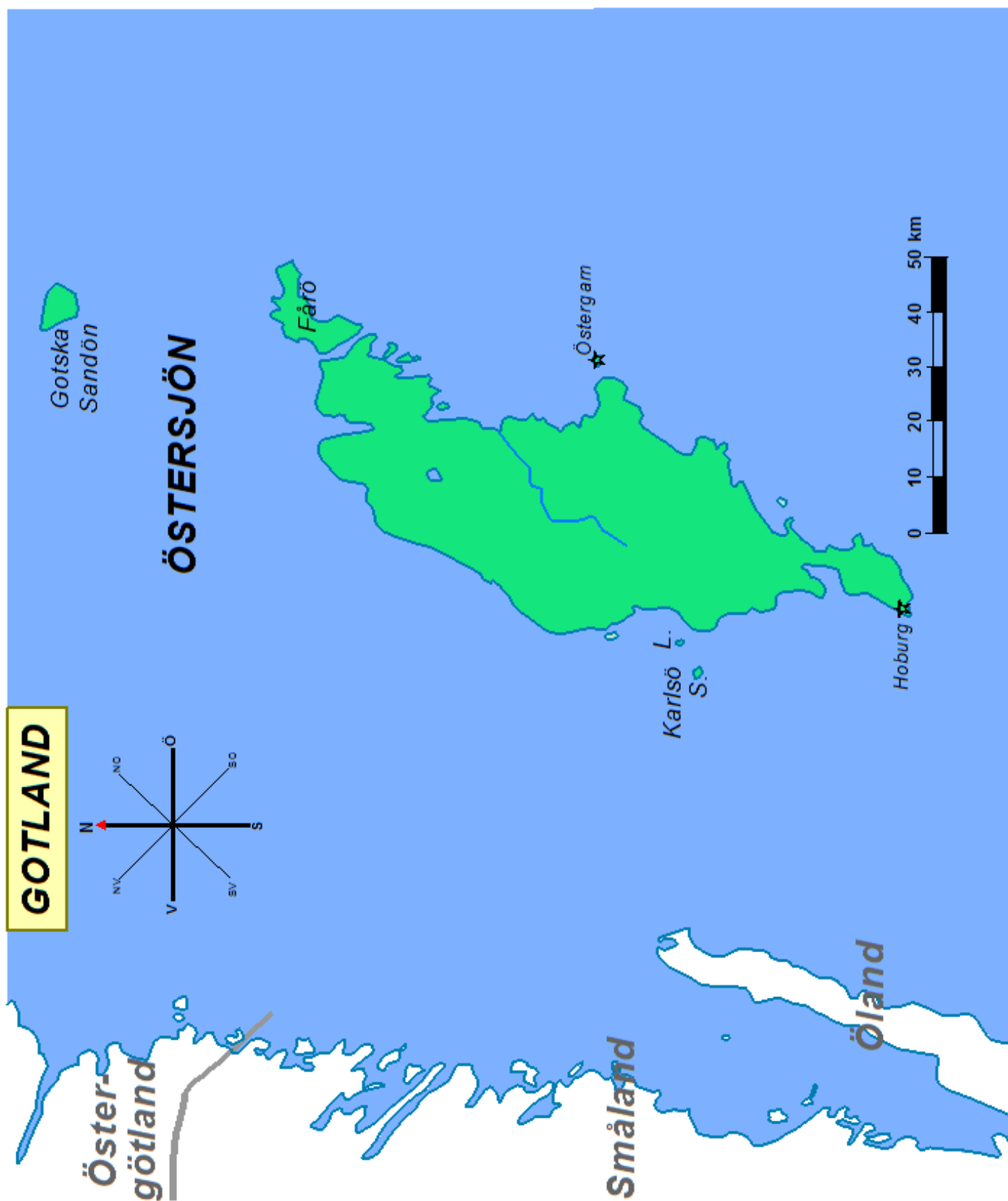


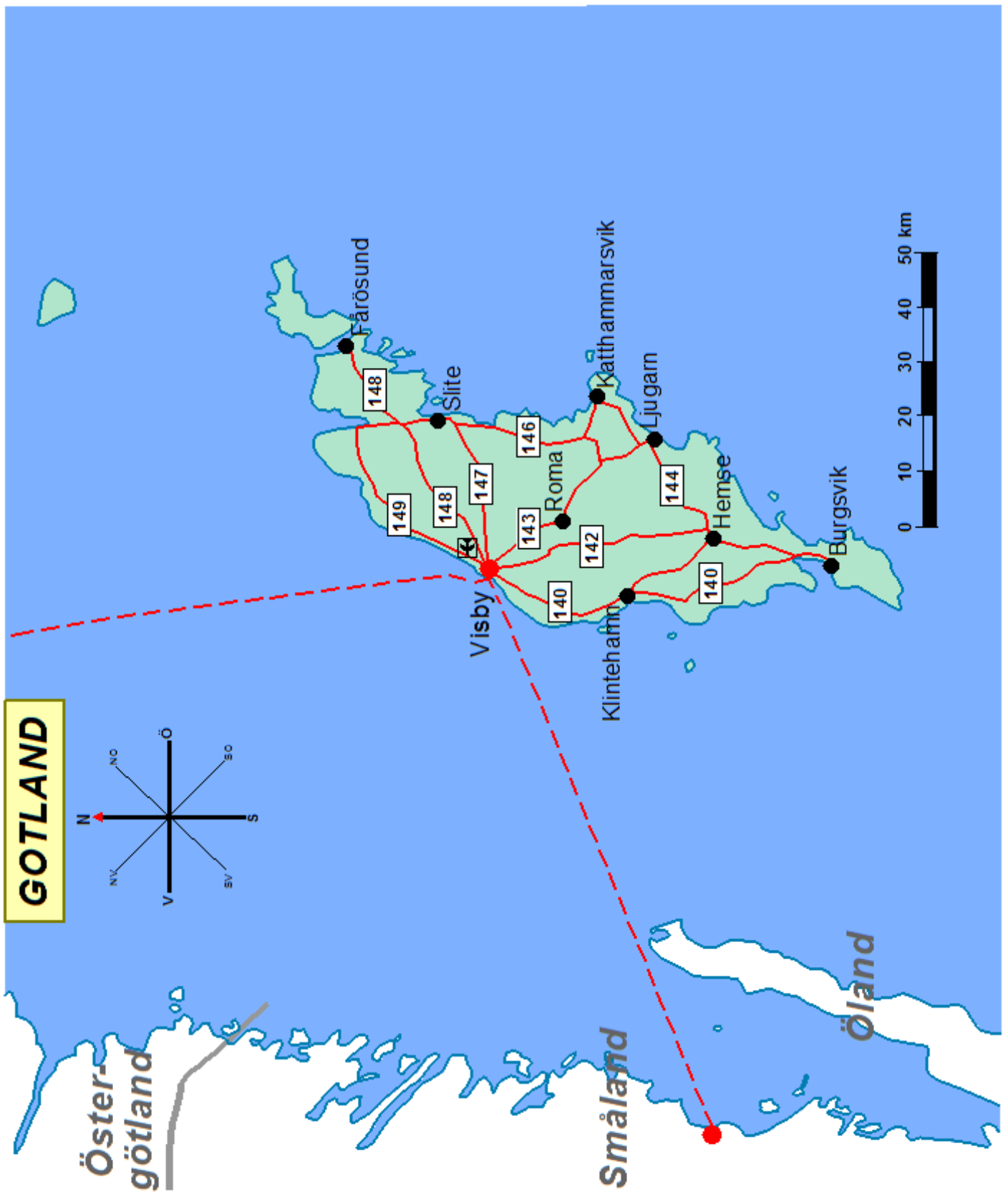
TECKENFÖRKLARING

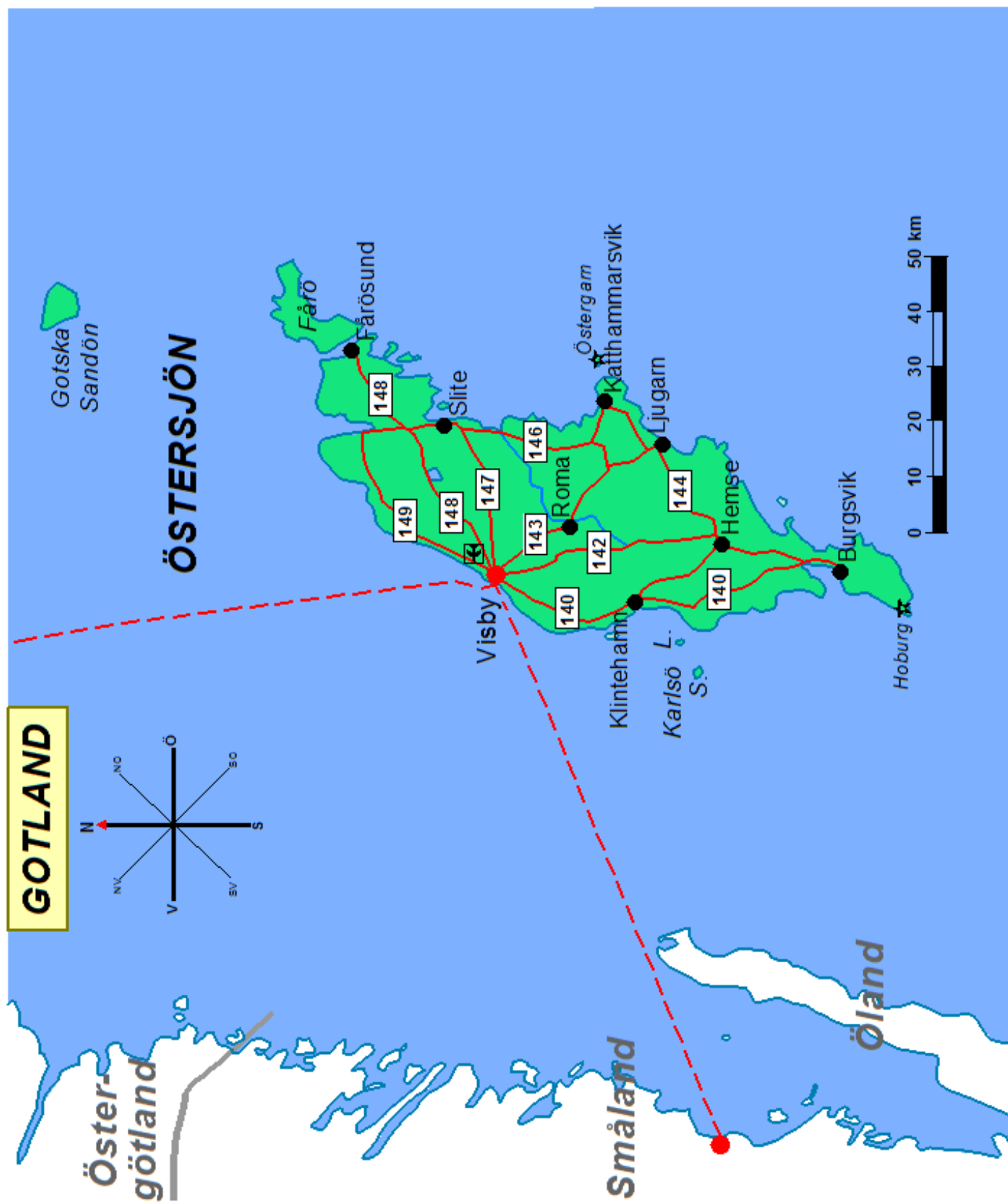
	Riksgräns		Tätort; fler än 100 000 inv.
	Landskapsgräns		Tätort; 50 000-100 000 inv.
	Hav, Sjö		Tätort; 25 000-50 000 inv.
	Vattendrag, större		Tätort; 10 000-25 000 inv.
	Vattendrag, mindre		Tätort; färre än 10 000 inv.
	Kanal		Fyr
	Båt- eller färjeförbindelse		Kärnkraftverk / Vattenkraftverk
	Järnväg		Över 1500 m ö h
	Motorväg		900-1500 m ö h
	Huvudväg		600-900 m ö h
	Väg, mindre		300-600 m ö h
	Europaväg/Riksväg		100-300 m ö h
	Flygplats		0-100 meter över havet

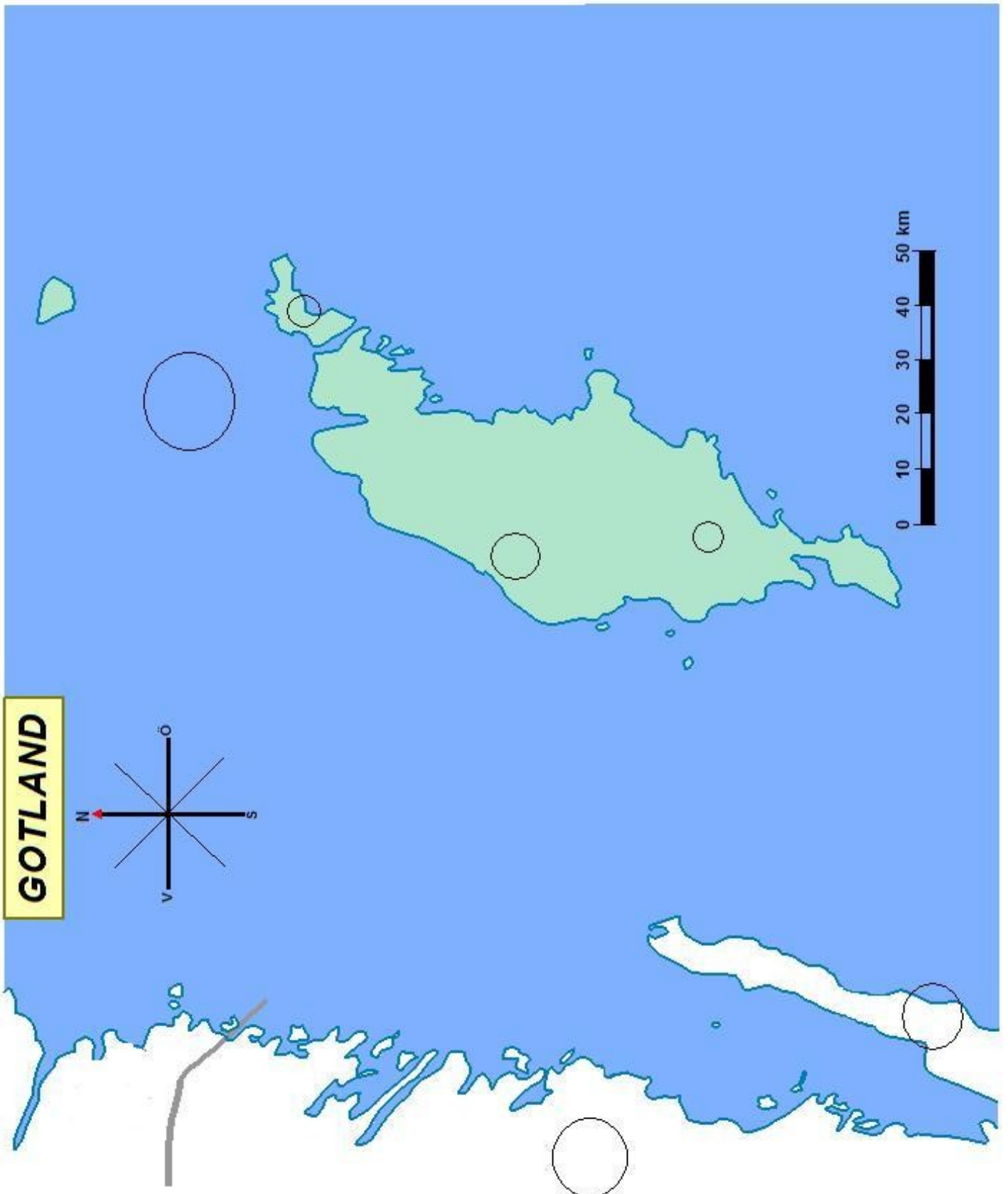






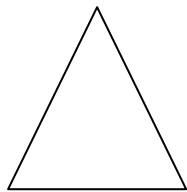






Gotland

Vilken av de här formerna tycker du är mest likt Gotland?



—



—



—

Gränser

Gotland som är Sveriges största ö ligger mitt ute i ett hav. Vad heter havet?

Vilka två svenska landskap ligger närmast väster om Gotland?

Vilket av dem ligger på fastlandet?

Skalan

Titta på skalan.

Hur långt är det från Gotlands sydspets till norra kusten?

Ca _____ mil.

Hur brett är Gotland på det bredaste stället?

Ca _____ mil.

Hur långt är det från sydspetsen rakt västerut till Öland?

Ca _____ mil.

Hur långt är det från nordspetsen till Småland?

Ca _____ mil.

Sjöar och vattendrag

Vad heter havet som omger Gotland?

Det finns två stora öar norr om Gotland. Den som ligger närmast heter?

Hur långt är det från Fårö till Gotska sandön?

Ca _____

Stora Karlsö och Lilla Karlsö ligger _____ om Gotland.

Vad heter havet som omger Gotland?

Sök reda på

Det finns en tävling som heter Gotland runt. Vad är det för sorts tävling?
Sök reda på bilder och fakta om den.

Tätorter

Här kommer några meningar om Gotlands tätorter. Skriv S (sant) eller F (falskt) framför varje mening.

___ De flesta av Gotlands tätorter ligger inne på ön.

___ De flesta av tätorterna ligger vid kusterna.

___ De finns inga tätorter inne på ön.

___ Slite ligger på Gotlands östra kust.

___ Hemse ligger på den västra kusten.

___ Klintehamn ligger söder om Visby.

___ Fårösund ligger på Fårö.

___ Visby har mer än 10.000 invånare.

Vad heter Gotlands största tätort?

Beskriv så noga som möjligt var på ön den största tätorten ligger.

Sök reda på

Visby är en mycket vacker och intressant gammal stad. Dit åker många turister på somrarna. Sök reda på bilder och fakta. Berätta för någon eller skriv några meningar.

Kommunikationer

Titta på kartan med Gotlands kommunikationer. Där kan du se att flera vägar möts på ett ställe på nordvästra Gotland. Just där ligger en stad. Vilken?

Hur många av vägarna strålar samman just där?

Titta på havet norr och väster om Gotland. Vad betyder de streckade röda linjerna markerar färjeförbindelsen med fastlandet.

Den ena går mellan Visby och Nynäshamn och den andra går mellan Visby och Oskarshamn.

Hur kan man också åka från Visby till fastlandet?

Topografi

Titta på Gotlands topografi. Hela Gotland är lågland. Ingen plats ligger mer än _____ m överhavet.

Att fundera över

Hur tror du att det är att leva på en ö långt från fastlandet?
Fundera över vilka fördelar och nackdelar det kan finnas.

Blindkarta

Markera på blindkartan med numren 1 – 6.

1. Visby
2. Hemse
3. Fårö
4. Östersjön
5. Öland
6. Småland

Om du hinner

Gotlands landskapsblomma:

Gotlands landskapsdjur:
